

Thema: Symmetrie	Handlungskompetenz: H2
Name:	Klasse:



1. Zeichne, wenn möglich die Symmetrieachse(n) ein.

0 1 2 3 4 5 6 8 9



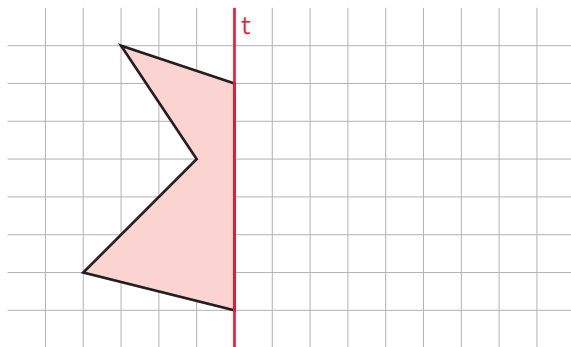
2. Zeichne, wenn möglich die Symmetrieachse(n) ein.

A B C D E F G H I M

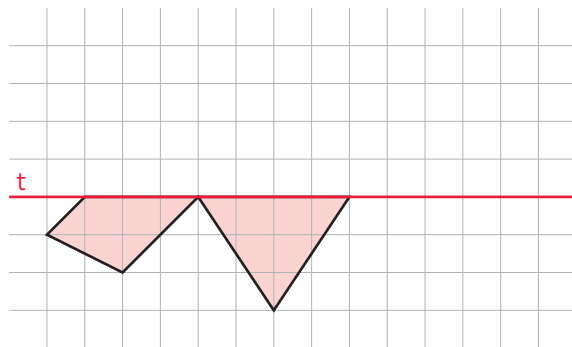


3. Ergänze zu einer symmetrischen Figur. Die Symmetrieachse ist f.

a)



b)



4. Zeichne das Spiegelbild des Wortes.

LAUBE |

Thema: <i>Symmetrie - Lösungen</i>	Handlungskompetenz: H2
Name:	Klasse:



1. Zeichne, wenn möglich die Symmetrieachse(n) ein.

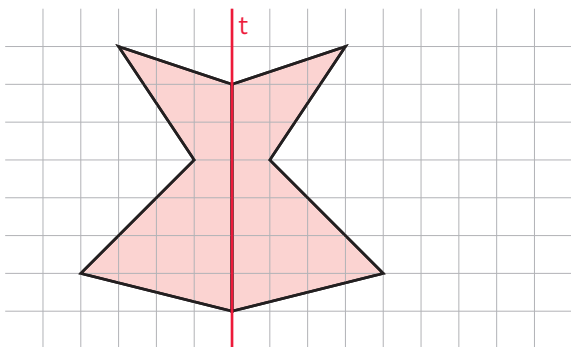


2. Zeichne, wenn möglich die Symmetrieachse(n) ein

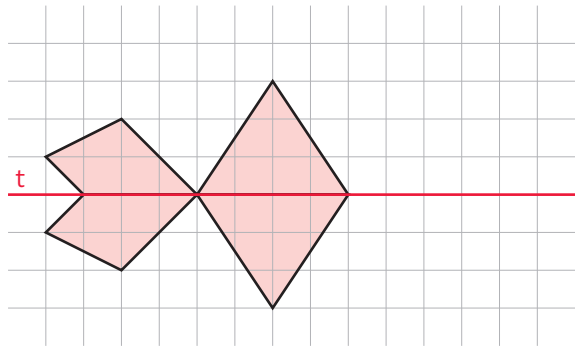


3. Ergänze zu einer symmetrischen Figur. Die Symmetrieachse ist f.

a)



b)



Zeichne das Spiegelbild des Wortes.

